

« 1 »

La Argentina y su población



¿Qué?

- Población argentina
- Movimientos migratorios
- Distribución de la población
- Calidad de vida
- Grandes centros urbanos
- Desigualdad en las ciudades de América latina

¿Dónde?

- Argentina
- América latina

¿Cuándo?

- En la actualidad

INGRESAR



1. Escriban un título para esta imagen, teniendo en cuenta que fue tomada en la Ciudad Autónoma de Buenos Aires.



2. Conversen entre todos y relacionen lo que ven en la imagen con la población en la Argentina.
3. Piensen entre todos cómo esta compuesta la población de nuestro país. ¿De qué países migraron los habitantes que vienen de otro lugar?



La población de la Argentina

La población es el conjunto de personas que habita un territorio, un país, una provincia, una ciudad o una localidad. Por lo general, la población está formada por personas diversas, de acuerdo con su lugar de nacimiento, los trabajos que realizan o su nivel de educación.

Los gobernantes de un país necesitan conocer cuántos habitantes hay y cuáles son sus características para poder tomar decisiones que mejoren la calidad de vida de la población: planificar la construcción de nuevos colegios y hospitales, construir viviendas para quienes no las tienen, entre otras medidas. Esta información proviene principalmente de los censos de población.

Un censo es el recuento de los habitantes, que se hace cada diez años. El organismo encargado de realizar y analizar los censos en nuestro país es el Instituto Nacional de Estadística y Censos (Indec).

Los habitantes de nuestro país pueden ser agrupados de acuerdo con diversas características: varones o mujeres, casados o solteros, argentinos o extranjeros, entre otras. El sexo, el estado civil, la edad y la nacionalidad son algunas de las características que permiten definir la estructura o composición de la población. Esa información también se obtiene de los censos.

Algunas decisiones que se toman tienen que ver con la edad de los habitantes y su situación laboral. Por ejemplo, si en un país hay mucha población anciana, las medidas del gobierno tienen que estar enfocadas en crear centros de jubilados, invertir en medicamentos gratuitos y en salud, y promover actividades socioculturales adecuadas para la gente mayor. Si en una población hay muchas personas en edad escolar, los gobiernos deben invertir en escuelas y en hospitales de niños.



Los trabajadores encargados de realizar los censos recorren los hogares de todo el país.

ALERTA WIKIBLOC

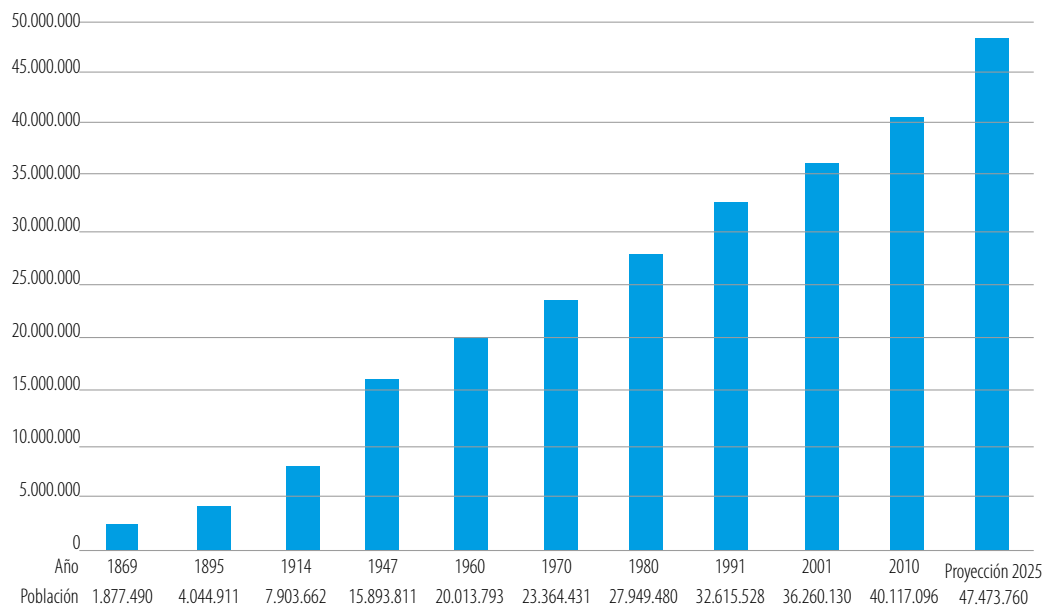
Antes de leer

Ir a Ficha 1 (págs. 3 y 4)

Lectura de datos estadísticos



Este gráfico de barras permite ver la evolución de la población de la Argentina desde el primer censo hasta el último, que se realizó en 2010, y estima una proyección para el año 2025. Si bien se puede observar que la población aumenta, el ritmo de crecimiento es muy lento, especialmente desde el censo de 1947.



Una población dinámica

A través del tiempo, la población de un país, ciudad o región puede aumentar o disminuir por muchas razones.

La población aumenta cuando se producen nacimientos o cuando se producen inmigraciones, es decir, cuando llega gente de otros lugares del país o del mundo. Disminuye cuando ocurren fallecimientos y cuando se producen emigraciones, es decir, cuando algunas personas se van a vivir a otros países o regiones. Por todo esto se dice que una población es dinámica, es decir, que está en permanente cambio.

El crecimiento de la población se puede estimar si se analiza el resultado de los siguientes cálculos:

$\text{Nacimientos} - \text{fallecimientos} = \text{CRECIMIENTO NATURAL O VEGETATIVO}$

$\text{Inmigrantes} - \text{emigrantes} = \text{SALDO MIGRATORIO}$

Si estudiamos atentamente los resultados de los últimos censos realizados en el país y reflexionamos sobre ellos, podemos sacar las siguientes conclusiones:

- Existe un lento crecimiento natural de la población, es decir, que hay más nacimientos que fallecimientos. Sin embargo, desde el siglo pasado se ha ido reduciendo el número de nacimientos por año. Esto se puede explicar si se tiene en cuenta, entre otras cosas, el mayor tiempo que una mujer le dedica al trabajo a lo largo de su vida.
- La población está en proceso de envejecimiento: esto significa que el porcentaje de personas mayores de 65 años va en aumento. Gracias a los avances médicos y tecnológicos, y al mejoramiento de algunas condiciones socioeconómicas, la esperanza de vida ha ido aumentando a lo largo de los años. Actualmente, se espera que una persona viva, en promedio, 74 años.
- El saldo migratorio es positivo porque son más las personas que llegan desde otros países a establecerse en la Argentina, es decir, los inmigrantes, que los argentinos que emigran a otros lugares del mundo.



En la Argentina, el número de nacimientos anuales supera al de fallecimientos. Sin embargo, la cantidad de personas que nacen por año se ha ido reduciendo durante el último siglo.



Las personas que inmigran desde otros países hacia la Argentina son más que las que emigran. En esta imagen se ve a miembros de la colectividad boliviana festejando el 25 de Mayo en nuestro país.

ACTIVIDADES

Trabajo con datos estadísticos

1. Entren al portal de población del sitio web del Indec (www.indec.gob.ar) e investiguen antes de responder las siguientes preguntas:

a. ¿Cuál es la cantidad total de población de la Argentina

estimada actualmente, de acuerdo con los últimos indicadores?

b. ¿Cuántas de esas personas son varones y cuántas son mujeres?

c. ¿Hay más varones que mujeres o es al revés?

Los movimientos migratorios

Una gran parte de la población se muda o se desplaza de un lugar a otro más de una vez a lo largo de su vida. Los desplazamientos de las personas, cuando se realizan con el objetivo de trasladar su lugar de residencia de forma permanente, se denominan *migraciones*. Estos desplazamientos provocan la disminución de población en un lugar y su aumento en otro.

La población decide migrar por muchos motivos: para buscar una mejor situación laboral; por razones de salud; para estudiar; para escapar de persecuciones políticas o ponerse a salvo de guerras, entre otros. Las migraciones que se realizan entre diferentes países se denominan *migraciones internacionales*. Las que se producen dentro del mismo país se denominan *migraciones internas*.

Actualmente, en toda América latina se producen migraciones desde las áreas rurales hacia las urbanas. Se trata de un tipo de migración interna a la que se denomina *éxodo rural*. La falta de trabajo, de posibilidades de estudio y de crecimiento personal impulsan a los campesinos más jóvenes a abandonar el campo y trasladarse a las ciudades en busca de mejores perspectivas.

Los inmigrantes en la Argentina

La historia de la Argentina está muy relacionada con los inmigrantes. Su influencia se evidencia tanto desde el punto de vista económico, como desde el demográfico y cultural. Hasta mediados del siglo XX, el crecimiento de la población argentina se originó, en gran medida, gracias al aporte migratorio de origen europeo, italianos y españoles, principalmente.

En cambio, a partir de la década de 1960, la cantidad de arribos de inmigrantes europeos disminuyó y aumentó la llegada de inmigrantes de países limítrofes. Las malas condiciones político-económicas de sus países de origen influyeron en la decisión de emigrar hacia nuestro país. Si bien los inmigrantes de países limítrofes se instalaron, en una primera etapa, en las provincias fronterizas, posteriormente se vieron atraídos hacia el Gran Buenos Aires, que es en la actualidad el área de máxima concentración de inmigrantes del país.

Cada colectividad suele instalarse en un área determinada (un barrio o un sector de algún partido) con el fin de conservar sus tradiciones o simplemente para estar en contacto con otros compatriotas. Así, los coreanos se concentran en el Bajo Flores, los bolivianos en el partido de Escobar (provincia de Buenos Aires) y en Flores, los chinos en el barrio de Belgrano, los peruanos en Balvanera, Abasto, etcétera.

ALERTA CHAT

¿Por qué creen que se describe a la Argentina como “un país de inmigrantes”?

POBLACIÓN NACIDA EN EL EXTRANJERO SEGÚN LUGAR DE NACIMIENTO

TOTAL DEL PAÍS. AÑO 2010

TOTAL	1.805.957
América	1.471.399
Países limítrofes	1.245.054
Bolivia	345.272
Brasil	41.330
Chile	191.147
Paraguay	550.713
Uruguay	116.592
Países no limítrofes (América)	226.345
Perú	157.514
Resto de América	68.831
Europa	299.394
Alemania	8.416
España	94.030
Francia	6.995
Italia	147.499
Resto de Europa	42.454
Asia	31.001
China	8.929
Corea	7.321
Japón	4.036
Líbano	933
Siria	1.337
Taiwán	2.875
Resto de Asia	5.570
África	2.738
Oceanía	1.425

Nota: se incluye a las personas viviendo en situación de calle. **Fuente:** Indec. Censo Nacional de Población, Hogares y Viviendas 2010.

Los nuevos inmigrantes en la Ciudad de Buenos Aires

Los inmigrantes siempre fueron un componente importante de la población porteña. El período de mayor inmigración fue entre 1857 y 1924, cuando entraron al país 5.481.276 extranjeros, en su mayoría italianos y españoles. Estos inmigrantes llegaron a ser tan numerosos que, para el censo de 1914, representaban casi la mitad de los habitantes de la Ciudad de Buenos Aires. Hoy, los inmigrantes representan solo el 11% de la población de la Ciudad y provienen de algún país limítrofe o del Perú, China o Europa del Este. Estas personas dejaron su país de origen por problemas económicos o persecuciones políticas, en busca de una vida mejor. Es la historia de nuestros abuelos y antepasados que hoy se repite con inmigrantes de otros lugares del mundo cuya cultura es muy diferente de la nuestra. Veamos algunos ejemplos:

Kapelusz editora S.A. Prohibida su fotocopia. (Ley 11.723)



Los inmigrantes de Europa del Este (ucranianos, polacos, rusos, etc.) comenzaron a llegar en la década de 1990. Entraron al país legalmente y con el sueño de encontrar un futuro mejor. Casi todos son profesionales o están formados en un oficio, pero aún no pudieron insertarse plenamente en nuestra sociedad.



Las cifras que publica el Indec no incluyen a los inmigrantes ilegales o "sin papeles". La regularización de muchos inmigrantes en estas condiciones es uno de los mayores problemas aún por resolver. Generalmente, los indocumentados se dedican a trabajos informales, como la agricultura en quintas o huertas, la venta callejera o en ferias, la confección de ropa en talleres clandestinos, etcétera.



La comunidad china está creciendo. Los chinos se concentran en el barrio de Belgrano y son dueños de supermercados y restaurantes. De los 9.000 chinos que viven en la Argentina, el 85% reside en la Ciudad de Buenos Aires y el Gran Buenos Aires.



La mayor parte de los coreanos ingresó al país en la década de 1980, gracias a un acuerdo bilateral entre ambos gobiernos. Necesitaban un depósito de 30.000 dólares, que se les devolvía cuando se radicaban. Muchos se dedicaron a la industria textil y a los autoservicios y se instalaron en el Bajo Flores.

ACTIVIDADES

Trabajo con datos estadísticos

1. Con la información que brinda la tabla de la página 18 sobre el origen de los inmigrantes, completen los espacios en blanco con los datos o términos que correspondan:

a. La mayor parte de los inmigrantes actuales proviene del continente _____.

b. Los _____ constituyen la

comunidad extranjera más grande de la Argentina.

c. Los europeos apenas representan el _____ % de los inmigrantes. En cambio, los inmigrantes de países limítrofes representan el _____ % del total.

d. La comunidad extranjera proveniente de Asia más numerosa es la de los _____.

La distribución de la población en el territorio argentino

De acuerdo con los datos del Censo de 2010, en la Argentina hay más de 40 millones de habitantes. ¿Cómo se puede evaluar si son muchos o pocos habitantes? Para saberlo, es necesario tener en cuenta la superficie del país y los recursos de los que dispone para cubrir las necesidades de su población. Si el territorio del país es muy grande, como el nuestro, esta cifra resulta pequeña. En cambio, sería excesiva en un país con poca extensión y escasos recursos, como es el caso de Santa Lucía, una pequeña isla del mar Caribe que tiene poco más de 600 km² de superficie (piensen que la provincia de Tucumán tiene 22.524 km²).

La población no ocupa un territorio de manera homogénea, es decir, que no se distribuye uniformemente. Por lo general, existen espacios con

grandes concentraciones de gente o superpoblados, espacios habitados por una cantidad moderada de población y espacios "vacíos" o despoblados. Esta distribución desigual puede tener muchas razones. En algunos casos, inciden factores naturales, como la disponibilidad de agua potable, la existencia de tierras fértiles, o las bondades del clima. Otras veces, pueden influir razones económicas, como la posibilidad de conseguir trabajo. En otros casos, la gente se asienta en los lugares teniendo en cuenta la oferta cultural y educativa o la disponibilidad de servicios.

Para conocer la distribución de la población en el espacio se utiliza el cálculo de *densidad de población*, que es la cantidad de habitantes que vive en una unidad de superficie determinada, por ejemplo, un kilómetro cuadrado. La densidad de población en la Argentina es de 14,36 habitantes por kilómetro cuadrado si solo se considera la parte continental americana (40.117.096 hab./2.791.810 km²). Sin embargo, esta cifra es un promedio nacional que esconde grandes diferencias, ya que mientras en la Ciudad Autónoma de Buenos Aires hay más de 14.000 hab./km², en Santa Cruz la densidad es de 1,1 hab./km².

Los colores más intensos indican mayor concentración de población. En algunas ciudades, como las capitales señaladas en el mapa, la densidad es superior a los 1.200 hab./km².



La calidad de vida

Para estudiar una población también es importante conocer su calidad de vida, es decir, las condiciones en las que vive la gente. Para conocer la calidad de vida, existen una serie de indicadores que expresan las condiciones económicas, sociales, culturales y sanitarias de las personas, por ejemplo, si tienen acceso a servicios públicos (gas, luz, etc.) y si tienen un nivel de ingresos adecuado.

Indicadores de calidad de vida

La cantidad de años que vive la gente se relaciona con la calidad de vida. Si los habitantes de un país están bien alimentados y tienen acceso a servicios de salud; si las condiciones del ambiente son saludables y tienen trabajo, tienen más posibilidades de llegar sanos a edades más avanzadas. La *esperanza de vida* es un indicador que expresa la cantidad de años que se espera que vivan las personas. En nuestro país, la esperanza de vida promedio en la actualidad es de 74 años. Sin embargo, en las provincias más pobres esa esperanza disminuye hasta alrededor de 66 años.

Los datos sobre *mortalidad infantil* indican cuántos niños de hasta un año de edad fallecen por cada 1.000 niños que nacen vivos. La mayoría de las muertes de niños de esa edad podrían evitarse con una atención médica adecuada. En la Argentina, se considera que la mortalidad infantil es moderada, ya que, de 1.000 niños que nacen vivos, mueren 16 antes de cumplir un año. Sin embargo, existen grandes diferencias regionales.

	ESPERANZA DE VIDA AL NACER (EN AÑOS). 2008-2010 (1)	TASA DE MORTALIDAD INFANTIL. AÑO 2010 (2)	TASA DE ANALFABETISMO. AÑO 2010 (3)
Total del país	75,34	11,9	1,9
Ciudad Autónoma de Buenos Aires	77,17	7,0	0,5
Buenos Aires	75,18	12,0	1,4
Catamarca	75,96	15,4	2,0
Chaco	72,85	14,7	5,5
Chubut	75,97	9,8	2,0
Córdoba	75,75	11,1	1,5
Corrientes	74,41	16,8	4,3
Entre Ríos	74,98	11,6	2,1
Formosa	73,93	17,8	4,1
Jujuy	74,82	13,4	3,1
La Pampa	76,20	7,0	1,9
La Rioja	75,33	12,6	1,8
Mendoza	76,33	11,7	2,2
Misiones	74,21	13,2	4,1
Neuquén	77,29	9,2	2,3
Río Negro	76,35	9,4	2,5
Salta	74,86	12,8	3,1
San Juan	75,23	11,0	2,1
San Luis	76,13	10,7	1,8
Santa Cruz	75,32	9,7	1,1
Santa Fe	75,10	10,3	1,8
Santiago del Estero	74,25	14,0	4,0
Tierra del Fuego, Antártida e Islas del Atlántico Sur	76,98	9,9	0,7
Tucumán	75,12	14,1	2,5

Fuente: Indec. (1) Número promedio de años que una persona espera vivir en determinadas condiciones de vida. (2) Número de niños que mueren antes de cumplir un año por cada 1.000 nacidos vivos. (3) Analfabetos son las personas mayores de 10 años que no saben leer ni escribir.

ACTIVIDADES

Trabajo con datos estadísticos

1. Lean la tabla y resuelvan las actividades:

- Describan la información que presenta la tabla.
- ¿En qué año se registró mayor desocupación entre la población?
- ¿Cómo vivirán las personas que no consiguen trabajo?
- ¿Cómo puede afectar su calidad de vida?

LA DESOCUPACIÓN EN LA ARGENTINA

AÑO	1998	2000	2003	2006	2010
PORCENTAJE DE DESOCUPADOS	13,2	15,4	14,3	10,18	7,75

ALERTA WIKIBLOC

Después de leer
Ir a Ficha 2 (págs. 5 y 6)
Esquema conceptual

Grandes centros urbanos en América latina y el mundo

En la actualidad existen en el mundo grandes concentraciones urbanas llamadas *áreas metropolitanas*. Estas áreas se fueron formando a partir del crecimiento de una gran ciudad (llamada *metrópoli*) que extendió su espacio urbano más allá de sus límites originales, integrando su territorio con el de ciudades y localidades que la rodean (conocidas en conjunto con el nombre de *conurbano*).

La importancia de estas metrópolis no solo se debe a su gran cantidad de población, sino a la influencia económica, política y cultural que ejercen, como centros de servicios del área que las rodea, sus actividades financieras e industriales y su vínculo con otras metrópolis, países o regiones del mundo. En América latina, todos estos aspectos están reunidos en las ciudades que tienen mayor cantidad de habitantes. En la mayoría de los casos, en cada país latinoamericano existe un área metropolitana, generalmente formada a partir de la capital del país.

México

La ciudad de México es la más poblada de América latina y la quinta en el mundo. Dentro del llamado *Distrito Federal* (el área que corresponde a la capital mexicana) viven casi 9 millones de personas; pero con su conurbano reúne en total algo más de 22 millones de habitantes.

Una concentración tan grande de población agrava los efectos de los problemas urbanos, como el desempleo, la escasez de vivienda, la contaminación ambiental, la congestión del tránsito y las dificultades en el suministro de servicios básicos.

San Pablo y Río de Janeiro

El espacio geográfico de Brasil tiene una característica que lo distingue del resto de los países de América latina, y es que tiene dos áreas metropolitanas muy grandes: San Pablo y Río de Janeiro, y ninguna de las dos es actualmente la capital del país.

El área metropolitana de San Pablo es la más poblada de Brasil, con más de 21 millones de habitantes. Es un importante centro industrial, comercial y financiero. En tanto, Río de Janeiro fue la capital de Brasil hasta 1960, cuando se construyó especialmente para ser capital la ciudad de Brasilia. Actualmente, Río de Janeiro es uno de los principales centros turísticos del mundo. El problema de la pobreza es más evidente en esta ciudad por la formación de *favelas*, que son asentamientos precarios de población en las laderas de los morros.



Ciudad de México, también llamada *Distrito Federal*, es el centro urbano con mayor población de América latina.



La Ciudad de Buenos Aires

En la Argentina, al igual que en México, el área metropolitana de su capital creció más allá de los límites de la ciudad y fue extendiéndose a los municipios que la rodean, hasta formar un gran conurbano. La ubicación de la actual Ciudad de Buenos Aires, como puerto, permitió el desarrollo de diversas actividades a lo largo de su historia. Fue la capital del Virreinato del Río de la Plata, funcionó como puerto exportador de cereales y carnes a fines del siglo XIX y principios del siglo XX, y se fue consolidando como el principal centro económico, político, industrial, cultural y financiero de la Argentina, y uno de los más importantes de América latina.



La Ciudad de Buenos Aires y su área metropolitana son el mayor centro urbano de la Argentina y el tercero más poblado de América latina.

Otros grandes centros urbanos del mundo

Al igual que las grandes metrópolis de América latina, las ciudades del resto del mundo también crecieron durante los últimos años. En el continente asiático, donde hay una alta densidad demográfica, se encuentran los centros urbanos más poblados del planeta. Asimismo, existen importantes ciudades en África y Estados Unidos.

Kapelusz Editora S.A. Prohibida su fotocopia. (Ley 11.723)

ÁREAS METROPOLITANAS MÁS POBLADAS DEL MUNDO

ÁREA METROPOLITANA	PAÍS	CANTIDAD DE HABITANTES
Cantón	China	42.900.000
Tokio	Japón	38.001.000
Shanghái	China	29.213.000
Delhi	India	25.703.000
México	México	22.452.000
San Pablo	Brasil	21.066.000
Bombay	India	21.043.000
Pekín	China	20.384.000
Osaka	Japón	20.238.000
Nueva York	Estados Unidos	19.532.000
Cairo	Egipto	18.772.000
Daca	Bangladés	17.480.000
Karachi	Pakistán	16.618.000
Gran Buenos Aires	Argentina	15.180.000
Calcuta	India	14.865.000
Los Ángeles	Estados Unidos	14.504.000
Estambul	Turquía	14.164.000
Seúl	Corea del Sur	13.558.000
Chongqing	China	13.332.000
Lagos	Nigeria	13.123.000

Fuente: www.demographia.com

ALERTA WIKIBLOC

Después de leer

Ir a Ficha 17 (págs. 35 y 36)

Planisferio político

ACTIVIDADES

Trabajo con datos estadísticos

1. Respondan las siguientes preguntas:

- ¿A qué se denomina *área metropolitana*?
- ¿Cuáles son las características principales de las áreas metropolitanas?

2. Elaboren una ficha que incluya las áreas metropolitanas más destacadas de América latina. Coloquen el nombre de cada metrópoli, el país al que corresponde, la cantidad de habitantes y las características principales. Pueden tomar los consejos que se encuentran en la ficha 4, página 9, del Wikibloc.



ALERTA WIKIBLOC

Antes de leer

Ir a Ficha 14 (págs. 29 y 30)

Mapa político
de América latina

ACTIVIDADES

Población y calidad de vida

1. Expliquen qué es y con qué fin se elabora el Índice de Desarrollo Humano (IDH). ¿Cuáles son los factores que combina?

2. Indiquen a qué factor utilizado para medir la calidad de vida corresponde cada una de estas afirmaciones:

a. Estima la cantidad de años, en promedio, que se espera que pueda vivir una persona.

b. Se obtiene dividiendo el PBI por la cantidad de habitantes de un país.

La desigualdad en las ciudades de América latina

Distintos organismos internacionales han elaborado indicadores de la calidad de vida para medir los problemas económicos y sociales en las ciudades y buscar soluciones. El más utilizado es el Índice de Desarrollo Humano (IDH), preparado por el Programa de las Naciones Unidas para el Desarrollo (PNUD).

El Índice de Desarrollo Humano

Un primer factor o indicador contemplado por el IDH es el promedio de ingresos de la población, llamado *Ingreso bruto per cápita* (es decir, por persona). Se obtiene dividiendo el valor de lo que un país produce anualmente por la cantidad de habitantes de un país.

Otro factor que integra el IDH es el nivel de educación, que considera la tasa de alfabetización de adultos (es decir, el porcentaje de personas mayores de 15 años que saben leer y escribir) y los porcentajes de personas que han completado sus estudios primarios, secundarios y universitarios.

La esperanza de vida al nacer es el tercer factor considerado en el IDH. Se trata de una estimación de la cantidad de años que, en promedio, se espera que viva una persona.

Los valores del IDH ubican a la mayoría de los países latinoamericanos en un nivel medio de desarrollo humano. Sin embargo, este indicador no toma en cuenta la desigualdad económica y social entre los integrantes de la población de un mismo país.

Con buena señal en valores

#SOCIEDAD #CONVIVENCIA #NORMAS

Los problemas de empleo en América latina

La falta de empleo es uno de los principales problemas de los países latinoamericanos.

Este problema se observa, sobre todo, en las ciudades. El índice o tasa de desempleo se obtiene calculando el porcentaje de personas que no tienen empleo dentro de la población económicamente activa (PEA), que incluye a las personas de entre 15 y 65 años que están en condiciones de trabajar.

En la migración de áreas rurales a las ciudades latinoamericanas tiene una gran influencia la búsqueda de trabajo, de mejores ingresos y servicios, que hacen a la calidad de vida de la población. Sin embargo, los problemas económicos y sociales en las grandes concentraciones urbanas muestran que esa esperanza de lograr una mejor calidad de vida no siempre se satisface.

- ¿Por qué les parece que el desempleo es uno de los principales problemas de las ciudades latinoamericanas? ¿Cuáles son sus consecuencias?



El envejecimiento de la población

Cuando aumenta la proporción de personas mayores a 65 años significa que la población está envejeciendo. ¿Qué consecuencias tiene el envejecimiento demográfico?

¿Qué temas investigás sobre la población?

Analizo el comportamiento de la población como un proceso, evaluando las transformaciones y los cambios demográficos, el devenir histórico de las poblaciones, las causalidades y las miradas prospectivas hacia el futuro. Asimismo, en particular, me interesa el estudio de los procesos migratorios, etapas, modalidades y su impacto en las poblaciones receptoras.

¿Qué herramientas utilizan los demógrafos para estudiar la población?

Las metodologías y las técnicas que se utilizan para estudiar el comportamiento de la población son cuantitativas, es decir que la realidad demográfica se sintetiza en un número. Este número puede estar expresado en porcentajes, por ejemplo, el porcentaje de extranjeros respecto de la población total; relaciones o índices, como el índice de masculinidad, que expresaría el total de varones por cada 100 mujeres; o tasas, como por ejemplo la tasa bruta de natalidad o de mortalidad, es decir, el total de nacimientos o de muertes en un año dado por cada mil habitantes. Las fuentes de datos con las que se trabaja corresponden en su mayoría a censos de población, hogares y viviendas; encuestas a hogares; registros de

nacimientos y defunciones, más conocidos como estadísticas vitales; y registros de matrimonios.

¿Qué efectos tiene el proceso de envejecimiento en la población mundial?

Producto de la declinación de los niveles de fecundidad y la simultánea ganancia de años a la vida que manifiesta la población mundial, hacia 2050 la mayoría de los continentes del mundo, a excepción de África, va a contar con aproximadamente un cuarto o más de su población con 60 años o más.

¿Cómo puede afectar el proceso de envejecimiento a la población argentina?

Argentina es uno de los países de América Latina que manifiesta un avanzado envejecimiento demográfico. Por ejemplo, la Ciudad Autónoma de Buenos Aires presenta una estructura poblacional en la cual el porcentaje de población de 65 años o más es prácticamente igual a la proporción de menores de 15 años. Hacia 2050 se espera que uno de cada cinco habitantes tenga 65 años o más. El efecto negativo o positivo de este fenómeno demográfico dependería en mayor medida de la planificación, el diseño y la programación de políticas públicas, económicas y sociales relativas a la protección y seguridad social, para asegurar una mejor calidad de vida de la población adulta mayor.

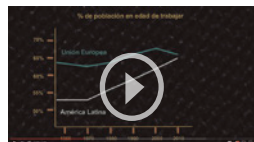
PERFIL



Gladys Massé

Le interesa mucho viajar, conocer otras culturas y otras formas de vivir. También le gusta bailar, escuchar todo tipo de música y leer tres libros a la vez. Es demógrafa social y, además, es especialista en la producción de datos sociodemográficos.

Para ver > temas relacionados



Banco Mundial: Las consecuencias del envejecimiento de la población en América latina <https://goo.gl/jd5jfC>

DEJÁ TU OPINIÓN

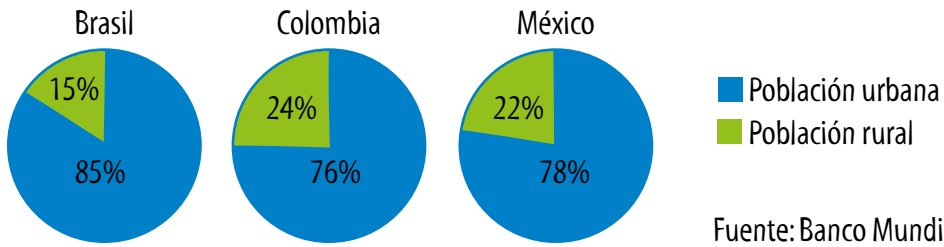
1. ¿Qué efectos tiene el envejecimiento de la población en la Argentina?
2. Proponé ejemplos de políticas públicas para mejorar la calidad de vida de la población de los adultos mayores.

FUENTES PARA OBSERVAR Y ANALIZAR

Los gráficos estadísticos son la representación gráfica de datos numéricos. Entre ellos se encuentran los gráficos de torta, que sirven para ver rápidamente la relación que guardan entre sí las cantidades de distintos elementos; por ejemplo, el porcentaje de población urbana y rural de un determinado país.

1. Observen con atención los siguientes gráficos de torta:

Distribución de la población en espacios urbanos y rurales



Fuente: Banco Mundial, 2012.

2. Completen las frases con la palabra que corresponda:

a. _____ es el país con mayor porcentaje de población urbana.

b. La proporción de población urbana es mayor en _____ que en _____ y _____.

c. _____ es el país con menor porcentaje de población urbana.

d. _____ es el país con menor porcentaje de población rural.

e. En Brasil, Colombia y México hay un mayor porcentaje de población _____ que de población _____.

FUENTES PARA MIRAR Y ESCUCHAR


1. Miren con atención el informe y luego respondan:

a. ¿Cuál es el principal problema que enfrenta la población de la ciudad? ¿A qué apuntan la mayoría de las quejas de los habitantes?

b. ¿Cuáles son los otros inconvenientes que se mencionan en el informe?

c. ¿Qué medidas se pueden implementar para tratar de solucionar el problema de la movilidad?

d. ¿Qué similitudes observan en relación con los problemas que ocurren en los grandes centros urbanos de la Argentina?



Ciudad de México: la mayor concentración urbana del país
<https://goo.gl/na7gRz>